

**Matrizes**

1. Considere a matriz identidade  $I_2$  e as matrizes

$$A = \begin{bmatrix} 1 & -2 \\ 1 & 0 \\ 2 & 3 \end{bmatrix}, \quad B = \begin{bmatrix} 1 & 2 \\ 3 & 4 \\ 5 & 6 \end{bmatrix}, \quad C = \begin{bmatrix} -1 & 1 \\ 0 & 2 \end{bmatrix}, \quad D = \begin{bmatrix} 0 & -1 & 0 \\ 1 & 0 & 2 \end{bmatrix}, \quad E = \begin{bmatrix} 3 \\ -2 \end{bmatrix}.$$

Calcule

- (a)  $A + B$ ;    (b)  $D^T - 2A$ ;    (c)  $AD$ ;    (d)  $DA$ ;    (e)  $ACD$ ;    (f)  $\frac{1}{5}(I_2 - (DA)^2)$ ;  
 (g) o produto das matrizes  $A, C, D$  e  $E$ , considerando estas matrizes ordenadas de forma adequada.

2. Indique, justificando, se as afirmações seguintes são verdadeiras ou falsas.

- (a) Se  $A$  e  $B$  são matrizes de ordem  $n$ , então  $(A + B)^2 = A^2 + 2AB + B^2$ .  
 (b) Se  $A$  e  $B$  são matrizes de ordem  $n$ , então  $(AB)^2 = A^2B^2$ .  
 (c) Se  $A, B, C$  são matrizes tais que  $A + C = B + C$ , então  $A = B$ .  
 (d) Se  $A, B, C$  são matrizes tais que  $AB = AC$ , então  $A = O$  (matriz nula) ou  $B = C$ .  
 (e) Se  $A$  é uma matriz de ordem  $n$  tal que  $AA^T = O$ , então  $A = O$  (sendo  $O$  a matriz nula de ordem  $n$ ).  
 (f) Para  $k \in \mathbb{N}_0$ ,

$$\begin{bmatrix} \mu_1 & 0 & \cdots & 0 \\ 0 & \mu_2 & \ddots & \vdots \\ \vdots & \ddots & \ddots & 0 \\ 0 & \cdots & 0 & \mu_n \end{bmatrix}^k = \begin{bmatrix} \mu_1^k & 0 & \cdots & 0 \\ 0 & \mu_2^k & \ddots & \vdots \\ \vdots & \ddots & \ddots & 0 \\ 0 & \cdots & 0 & \mu_n^k \end{bmatrix}.$$

3. Seja  $A$  uma matriz quadrada.

- (a) Mostre que  $A + A^T$  é uma matriz simétrica.  
 (b) Em que condições é que a matriz  $A - A^T$  é simétrica?

4. Considere as seguintes matrizes:

$$A = \begin{bmatrix} 1 & 0 & 0 \\ 3 & 3 & 3 \\ 0 & 0 & 1 \end{bmatrix}; \quad B = \begin{bmatrix} 3 & 4 & 5 & 0 \\ 0 & 0 & 2 & 1 \\ 0 & 0 & 0 & 5 \\ 0 & 0 & 0 & 0 \end{bmatrix}; \quad C = \begin{bmatrix} 1 & 0 & 0 & 0 \\ 0 & 0 & 0 & 0 \\ 0 & 0 & 0 & 5 \end{bmatrix}; \quad D = \begin{bmatrix} 1 & 14 & 0 & 10 \\ 0 & 0 & 1 & 1 \\ 0 & 0 & 0 & 0 \end{bmatrix}.$$

- (a) Indique as matrizes que estão na forma escalonada e as que estão na forma escalonada reduzida.  
 (b) Determine matrizes equivalentes por linhas às matrizes dadas que estejam:  
 i. na forma escalonada;  
 ii. na forma escalonada reduzida.

**Sistemas de equações lineares**

5. Resolva os seguintes sistemas usando o método de eliminação de Gauss (ou o método de eliminação de Gauss-Jordan).

$$(a) \begin{cases} 3x_1 - x_2 = 4 \\ 2x_1 - \frac{1}{2}x_2 = 1 \end{cases}$$

$$(b) \begin{cases} 2x_1 - 3x_2 = 4 \\ x_1 - 3x_2 = 1 \\ x_1 + 3x_2 = 2 \end{cases}$$

$$(c) \begin{cases} x_1 + 2x_3 = 0 \\ -x_1 + x_2 + 3x_3 = 2 \\ 2x_1 - x_2 + x_3 = 2 \end{cases}$$

$$(d) \begin{cases} x_1 - 2x_2 + 2x_3 = 4 \\ -2x_1 + x_2 + x_3 = 1 \\ x_1 - 5x_2 + 7x_3 = -1 \end{cases}$$

$$(e) \begin{cases} 4x_1 + 3x_2 + 2x_3 = 1 \\ x_1 + 3x_2 + 5x_3 = 1 \\ 3x_1 + 6x_2 + 9x_3 = 2 \end{cases}$$

$$(f) \begin{cases} 3x_1 + 4x_2 - 5x_3 + 7x_4 = 0 \\ 2x_1 - 3x_2 + 3x_3 - 2x_4 = 0 \\ 4x_1 + 11x_2 - 13x_3 + 16x_4 = 0 \\ 7x_1 - 2x_2 + x_3 + 3x_4 = 0 \end{cases}$$

6. Para cada sistema, determine os valores de  $\alpha$  para os quais o sistema

$$(a) \begin{cases} \alpha x + y = 1 \\ x + \alpha y = 1 \end{cases}; \quad (b) \begin{cases} x + (\alpha - 1)y + \alpha z = \alpha - 2 \\ (\alpha - 1)y = 1 \\ \alpha z = \alpha - 3 \end{cases}; \quad (c) \begin{cases} x + \alpha y + \alpha z = 0 \\ \alpha x + y + z = 0 \\ x + y + \alpha z = \alpha^2 \end{cases}$$

i. não tem solução; ii. tem exatamente uma solução; iii. tem uma infinidade de soluções.

7. Considere o sistema de equações lineares

$$\begin{cases} x - y - z = a \\ x + y + z = a \\ x - by + z = -b \end{cases}$$

onde  $a$  e  $b$  são parâmetros reais.

(a) Determine os valores de  $a$  e  $b$  para os quais o sistema é:

i. possível e determinado; ii. possível e indeterminado; iii. impossível.

(b) Sabendo que  $(1, -1, 1)$  é uma solução do sistema, determine o conjunto de todas as soluções.

8. Considere a matriz  $A$  de dimensão  $3 \times 5$ , o vetor  $B$  de dimensão  $3 \times 1$  e o sistema  $AX = B$ , onde  $X$  é o vetor das incógnitas. Sabendo que a característica de  $A$  é 3, determine a característica da matriz ampliada do sistema (matriz  $[A|B]$ ) e a nulidade de  $A$ . Classifique o sistema.

9. Seja  $A$  uma matriz qualquer e  $B$  uma coluna de  $A$ . Mostre que o sistema  $AX = B$  é possível e indique uma solução.

**Posição relativa de retas e planos**

10. Considere os sistemas dos exercícios 5-(c,d,e). Suponha que as duas primeiras equações de cada sistema são equações cartesianas de uma reta  $r$  e a terceira equação é uma equação geral de um plano  $\mathcal{P}$ . Em cada alínea, determine a posição relativa da reta  $r$  e do plano  $\mathcal{P}$  e descreva a interseção de  $r$  e  $\mathcal{P}$ .

11. Considere os planos  $\mathcal{P}$  e  $\mathcal{P}_{a,b}$  de equações  $x + y + 2z = 3$  e  $ax + 2y + 4z = b$ , respectivamente, com  $a, b \in \mathbb{R}$ . Discuta a posição relativa dos planos  $\mathcal{P}$  e  $\mathcal{P}_{a,b}$  em função dos parâmetros reais  $a$  e  $b$ .

12. Considere que cada uma das seguintes matrizes é uma matriz obtida por aplicação do método de eliminação de Gauss à matriz de um sistema formado por equações cartesianas que definem duas retas  $r$  e  $s$ :

$$(a) \left[ \begin{array}{ccc|c} 1 & 0 & 2 & -5 \\ 0 & 15 & -5 & 3 \\ 0 & 0 & 1 & -3 \\ 0 & 0 & 0 & 0 \end{array} \right]; \quad (b) \left[ \begin{array}{ccc|c} 1 & 0 & 2 & -1 \\ 0 & 0 & -1 & 3 \\ 0 & 0 & 0 & 0 \\ 0 & 0 & 0 & 0 \end{array} \right]; \quad (c) \left[ \begin{array}{ccc|c} 1 & 0 & 2 & -2 \\ 0 & 2 & -2 & 3 \\ 0 & 0 & 1 & -3 \\ 0 & 0 & 0 & 2 \end{array} \right]; \quad (d) \left[ \begin{array}{ccc|c} 1 & 0 & 2 & 0 \\ 0 & 0 & 1 & -3 \\ 0 & 0 & 0 & 3 \\ 0 & 0 & 0 & 0 \end{array} \right].$$

Para cada matriz, indique qual é a posição relativa das retas  $r$  e  $s$ . Justifique.

13. Considere a reta  $r$  definida por  $x = 2y + z = 1$  e a família de retas  $s_{a,b}$  de equação vetorial

$$(x, y, z) = (a, 0, 1) + \alpha(0, 2, b), \quad \alpha \in \mathbb{R},$$

com  $a, b \in \mathbb{R}$ .

- (a) Determine as equações cartesianas de  $s_{a,b}$ .  
 (b) Discuta a posição relativa das retas  $r$  e  $s_{a,b}$ , em função dos parâmetros  $a$  e  $b$ .

### Matriz Inversa

14. Averigue se as seguintes matrizes são invertíveis (não singulares) e, em caso afirmativo, determine a respectiva inversa:

$$(a) \begin{bmatrix} 3 & 2 \\ -6 & -4 \end{bmatrix}; \quad (b) \begin{bmatrix} 1 & 1 & 1 \\ 0 & 1 & 1 \\ 0 & 0 & 1 \end{bmatrix}; \quad (c) \begin{bmatrix} 0 & 2 & -1 \\ 1 & 1 & -1 \\ -2 & -5 & 4 \end{bmatrix}; \quad (d) \begin{bmatrix} 2 & 3 & 4 & 5 \\ 3 & 3 & 4 & 5 \\ 4 & 4 & 4 & 5 \\ 5 & 5 & 5 & 5 \end{bmatrix}.$$

15. Considere as matrizes

$$A = \begin{bmatrix} 2 & 3 \\ 5 & 7 \end{bmatrix}, \quad B = \begin{bmatrix} -7 & 3 \\ 5 & -2 \end{bmatrix}, \quad C = \begin{bmatrix} 17 & -6 \\ 35 & -12 \end{bmatrix}, \quad D = \begin{bmatrix} 2 & 0 \\ 0 & 3 \end{bmatrix}.$$

- (a) Mostre que  $C = ADB$ .  
 (b) Verifique que  $B$  é a matriz inversa de  $A$ .  
 (c) Calcule  $C^5$ , usando as alíneas anteriores.  
 (d) Resolva a equação matricial  $AXD = B$ , relativamente à matriz  $X$ .

16. Considere a matriz invertível  $M = \begin{bmatrix} 1 & 2 & -1 \\ 2 & 1 & 0 \\ -1 & -4 & 2 \end{bmatrix}$ .

- (a) Verifique que  $M$  satisfaz a equação  $M^3 - 4M^2 - I_3 = 0$ .  
 (b) Prove, sem calcular o seu valor, que  $M^{-2} = M - 4I_3$ .  
 (c) Calcule  $M^{-1}$  pela equação da alínea anterior e verifique o resultado obtido.

17. (a) Seja  $A$  uma matriz arbitrária  $n \times n$ . Suponhamos que existe um número natural  $k$  tal que  $A^k = O$  (matriz nula  $n \times n$ ). Mostre que  $I_n - A$  é invertível e que

$$(I_n - A)^{-1} = I_n + A + A^2 + \dots + A^{k-1}.$$

- (b) Usando a alínea anterior, calcule a inversa da matriz  $M = \begin{bmatrix} 1 & -1 & 0 \\ 0 & 1 & -1 \\ 0 & 0 & 1 \end{bmatrix}$ .

18. Considerando as matrizes

$$A = \begin{bmatrix} 1 & 0 & 1 \\ 1 & 1 & 1 \\ 0 & 0 & 1 \end{bmatrix}, \quad B = \begin{bmatrix} 1 & 1 & 0 \\ 0 & 1 & 0 \\ 1 & 2 & -2 \end{bmatrix}, \quad C = \begin{bmatrix} 2 & 1 \\ 3 & 1 \\ 0 & 1 \end{bmatrix}, \quad D = \begin{bmatrix} 1 & -2 & 1 \\ 0 & 1 & 1 \end{bmatrix}, \quad E = \begin{bmatrix} 4 & 0 \\ -4 & 8 \end{bmatrix},$$

resolva as seguintes equações matriciais relativamente à matriz  $X$ :

- (a)  $((B^{-1})^T X)^{-1} A^{-1} = I$ ;
- (b)  $(C^T D^T X)^T = E$ .

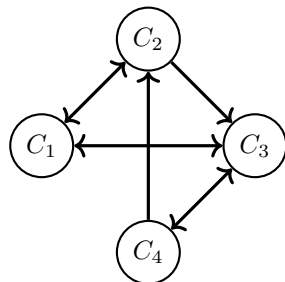
19. Considere o sistema de equações lineares

$$\begin{cases} y + 3z = 1 \\ x + y + 3z = 0 \\ 2x + y + 4z = 1 \end{cases}$$

- (a) Mostre que a matriz dos coeficientes do sistema é invertível e calcule a sua inversa.
- (b) Justifique que o sistema é possível e determinado. Calcule a sua solução recorrendo à inversa da matriz dos coeficientes do sistema.

**Algumas aplicações**

20. Uma companhia aérea serve quatro cidades,  $C_1, C_2, C_3$  e  $C_4$ , cujas ligações podem ser representadas por um *grafo orientado*:



- existem voos de  $C_1$  para  $C_2$  e  $C_3$ ;
- existem voos de  $C_2$  para  $C_1$  e  $C_3$ ;
- existem voos de  $C_3$  para  $C_1$  e  $C_4$ ;
- existem voos de  $C_4$  para  $C_2$  e  $C_3$ .

(a) Escreva a matriz  $A = [a_{ij}]_{4 \times 4}$ , chamada a matriz de adjacência associada ao grafo, tal que

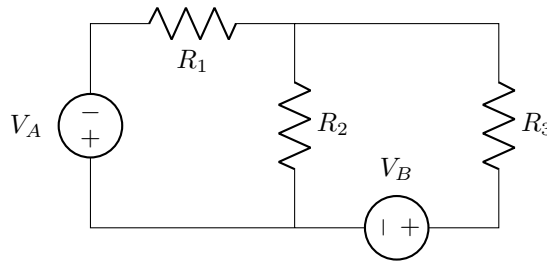
$$a_{ij} = \begin{cases} 1, & \text{se existe um voo de } C_i \text{ para } C_j, \\ 0, & \text{caso contrário.} \end{cases}$$

(b) A matriz  $A^r = [a_{ij}^{(r)}]$  (onde  $A^r$  é a matriz que resulta da multiplicação de  $r$  matrizes iguais a  $A$ ) é tal que a entrada  $a_{ij}^{(r)}$  representa o número de itinerários diferentes de ligação da cidade  $C_i$  à cidade  $C_j$  utilizando  $r$  voos. Determine quantos itinerários diferentes existem para irmos da cidade  $C_4$  para a cidade  $C_1$  utilizando:

- i. apenas um voo;
- ii. dois voos;
- iii. três voos.

Para cada uma das alíneas anteriores, determine explicitamente todos os itinerários.

21. Considere o circuito eléctrico representado na figura seguinte:

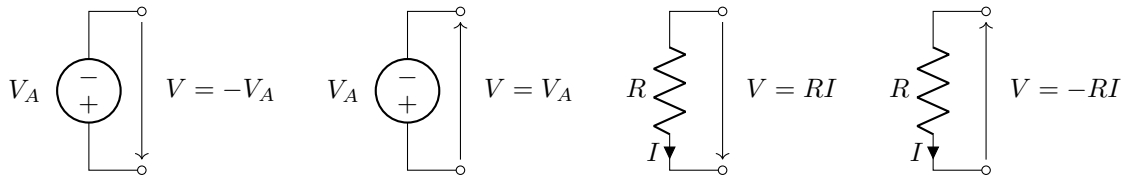


constituído por dois geradores de tensão  $V_A = 7V$  e  $V_B = 5V$  e três resistências  $R_1 = 10k\Omega$ ,  $R_2 = 5k\Omega$  e  $R_3 = 15k\Omega$ . Determine a intensidade das correntes que passam pelas três resistências.

**Observação:** Para resolver o exercício é preciso aplicar as **Leis de Kirchhoff**:

- **(lei dos nós)** a soma das correntes que entram num nó é igual à soma das correntes que dele saem (ou seja, um nó não acumula carga);
- **(lei das malhas)** a soma da diferença de potencial eléctrico ao longo de qualquer caminho fechado (malha) é nula.

A direcção escolhida para percorrer a malha determina o cálculo das diferenças de potencial consoante as seguintes convenções:



- Num gerador de tensão, a diferença de potencial eléctrico medida do polo positivo para o polo negativo é positiva; caso contrário é negativa.
- Numa resistência  $R$  percorrida por uma corrente  $I$ , a diferença de potencial eléctrico, medida com o mesmo sentido que a corrente, é dada pela Lei de Ohm, isto é,  $V = RI$ ; caso contrário,  $V = -RI$ .

*Sugestão: comece por determinar um sistema de equações lineares que resulta da aplicação das leis de Kirchhoff e aplique o método de eliminação de Gauss (ou de Gauss-Jordan) ao sistema.*

1. (a)  $\begin{bmatrix} 2 & 0 \\ 4 & 4 \\ 7 & 9 \end{bmatrix}$ ; (b)  $\begin{bmatrix} -2 & 5 \\ -3 & 0 \\ -4 & -4 \end{bmatrix}$ ; (c)  $\begin{bmatrix} -2 & -1 & -4 \\ 0 & -1 & 0 \\ 3 & -2 & 6 \end{bmatrix}$ ; (d)  $\begin{bmatrix} -1 & 0 \\ 5 & 4 \end{bmatrix}$ ; (e)  $\begin{bmatrix} -3 & 1 & -6 \\ 1 & 1 & 2 \\ 8 & 2 & 16 \end{bmatrix}$ ; (f)  $\begin{bmatrix} 0 & 0 \\ -3 & -3 \end{bmatrix}$ ;  
 (g)  $DACE = \begin{bmatrix} 5 \\ -41 \end{bmatrix}$  ou  $CDAE = \begin{bmatrix} 10 \\ 14 \end{bmatrix}$ .

2. (a) Falsa (b) Falsa (c) Verdadeira; (d) Falsa; (e) Verdadeira; (f) Verdadeira.

3. (b) Quando  $A$  é uma matriz simétrica e neste caso  $A - A^T = 0$  (matriz nula).

4. (a) Forma escalonada: B e D; forma escalonada reduzida: D.

(b) i. Forma escalonada:  $A_e = \begin{bmatrix} 1 & 0 & 0 \\ 0 & 3 & 3 \\ 0 & 0 & 1 \end{bmatrix}$ ;  $C_e = \begin{bmatrix} 1 & 0 & 0 & 0 \\ 0 & 0 & 0 & 5 \\ 0 & 0 & 0 & 0 \end{bmatrix}$ .

ii. Forma escalonada reduzida:  $A_r = \begin{bmatrix} 1 & 0 & 0 \\ 0 & 1 & 0 \\ 0 & 0 & 1 \end{bmatrix}$ ;  $B_r = \begin{bmatrix} 1 & \frac{4}{3} & 0 & 0 \\ 0 & 0 & 1 & 0 \\ 0 & 0 & 0 & 1 \\ 0 & 0 & 0 & 0 \end{bmatrix}$ ;  $C_r = \begin{bmatrix} 1 & 0 & 0 & 0 \\ 0 & 0 & 0 & 1 \\ 0 & 0 & 0 & 0 \end{bmatrix}$ ;

5. (a)  $x_1 = -2, x_2 = -10$ ; (b) impossível; (c)  $x_1 = -4, x_2 = -8, x_3 = 2$ ; (d) impossível; (e)  $x_1 = t, x_2 = \frac{1}{3} - 2t, x_3 = t, t \in \mathbb{R}$ ; (f)  $x_1 = \frac{3}{17}t_1 - \frac{13}{17}t_2, x_2 = \frac{19}{17}t_1 - \frac{20}{17}t_2, x_3 = t_1, x_4 = t_2, t_1, t_2 \in \mathbb{R}$ ;

6. (a) i.  $\alpha = -1$ , ii.  $\alpha \in \mathbb{R} \setminus \{-1, 1\}$ , iii.  $\alpha = 1$ ; (b) i.  $\alpha \in \{0, 1\}$ , ii.  $\alpha \in \mathbb{R} \setminus \{0, 1\}$ ; (c) i.  $\alpha = 1$ , ii.  $\alpha \in \mathbb{R} \setminus \{-1, 1\}$ , iii.  $\alpha = -1$ .

7. (a) i.  $a \in \mathbb{R}$  e  $b \in \mathbb{R} \setminus \{-1\}$ ; ii.  $a = 1$  e  $b = -1$ ; iii.  $a \in \mathbb{R} \setminus \{1\}$  e  $b = -1$ . (b)  $\{(1, -z, z) : z \in \mathbb{R}\}$ .

8. Seja  $n = 5$  o número de colunas de  $A$ .  $car([A|B]) = 3$  e  $nul(A) = n - car(A) = 2$ . O sistema é possível e indeterminado porque  $car(A) = car([A|B]) = 3 < n = 5$ . O grau de indeterminação do sistema é igual a  $nul(A) = 2$ .

9. Se  $B$  é a coluna  $i$  de  $A$ , então  $X = [0 \cdots 1 \cdots 0]^T$ , com 1 na linha  $i$  e as restantes entradas nulas, é uma solução.

10. (c) A reta  $r$  e o plano  $\mathcal{P}$  são concorrentes. Intersetam-se no ponto  $(-4, -8, 2)$ ;

(d) A reta  $r$  e o plano  $\mathcal{P}$  são paralelos. A interseção é o conjunto vazio.

(e) A reta  $r$  está contida no plano  $\mathcal{P}$ . A interseção é a  $r = \{(x_1, x_2, x_3) \in \mathbb{R}^3 : x_1 = t, x_2 = \frac{1}{3} - 2t, x_3 = t, t \in \mathbb{R}\}$ , isto é,  $r = \{(x_1, x_2, x_3) \in \mathbb{R}^3 : (x_1, x_2, x_3) = (0, \frac{1}{3}, 0) + t(1, -2, 1), t \in \mathbb{R}\}$ .

11.  $\mathcal{P}$  e  $\mathcal{P}_{a,b}$  são coincidentes se  $a = 2$  e  $b = 6$ ; estritamente paralelos se  $a = 2$  e  $b \neq 6$ ; concorrentes se  $a \neq 2$  e  $b \in \mathbb{R}$ .

12. (a) Retas concorrentes; (b) retas coincidentes; (c) retas enviesadas; (d) retas estritamente paralelas.

13. (a) Equações cartesianas de  $s_{a,b}$ :  $x = a, by - 2z = -2$ .

(b) As retas  $r$  e  $s_{a,b}$  são coincidentes se  $a = 1$  e  $b = -4$ ; estritamente paralelas se  $a \neq 1$  e  $b = -4$ ; concorrentes se  $a = 1$  e  $b \neq -4$ ; enviesadas se  $a \neq 1$  e  $b \neq -4$ .

14. (a) Matriz singular; (b)  $\begin{bmatrix} 1 & -1 & 0 \\ 0 & 1 & -1 \\ 0 & 0 & 1 \end{bmatrix}$ ; (c)  $\begin{bmatrix} 1 & 3 & 1 \\ 2 & 2 & 1 \\ 3 & 4 & 2 \end{bmatrix}$ ; (d)  $\begin{bmatrix} -1 & 1 & 0 & 0 \\ 1 & -2 & 1 & 0 \\ 0 & 1 & -2 & 1 \\ 0 & 0 & 1 & -\frac{4}{5} \end{bmatrix}$ .

15. (c)  $C^5 = AD^5B = \begin{bmatrix} 3197 & -1266 \\ 7385 & -2922 \end{bmatrix}$ ; (d)  $X = \begin{bmatrix} 32 & -9 \\ -\frac{45}{2} & \frac{19}{3} \end{bmatrix}$ .

16. (c)  $M^{-1} = MM^{-2} = M(M - 4I) = \begin{bmatrix} 2 & 0 & 1 \\ -4 & 1 & -2 \\ -7 & 2 & -3 \end{bmatrix}$ .

17. (a)  $(I_n + A + A^2 + \dots + A^{k-1})(I_n - A) = I_n - A^k = I_n$ .

(b)  $M = I - A$  com  $A = \begin{bmatrix} 0 & 1 & 0 \\ 0 & 0 & 1 \\ 0 & 0 & 0 \end{bmatrix}$ , sendo  $A^3 = O$ . Logo,  $M^{-1} = (I - A)^{-1} = I + A + A^2 = \begin{bmatrix} 1 & 1 & 1 \\ 0 & 1 & 1 \\ 0 & 0 & 1 \end{bmatrix}$ .

18. (a)  $X = B^T A^{-1} = \begin{bmatrix} 1 & 0 & 0 \\ 0 & 1 & 1 \\ 0 & 0 & -2 \end{bmatrix}$ ; (b)  $X = (E(DC)^{-1})^T = \begin{bmatrix} -1 & 4 \\ 0 & 4 \end{bmatrix}$ .

19. (a)  $\begin{bmatrix} -1 & 1 & 0 \\ -2 & 6 & -3 \\ 1 & -2 & 1 \end{bmatrix}$ . (b)  $x = -1, y = -5, z = 2$ .

20. (i) 0 itinerários; (ii) 2:  $C_4 \rightarrow C_2 \rightarrow C_1$ ,  $C_4 \rightarrow C_3 \rightarrow C_1$ ; (iii) 1:  $C_4 \rightarrow C_2 \rightarrow C_3 \rightarrow C_1$ .

21.  $I_1 = 600 \mu\text{A}$  (esquerda-direita),  $I_2 = 200 \mu\text{A}$  e  $I_3 = 400 \mu\text{A}$  (cima-baixo).